

**КЛАСИФИКАЦИОНИ ИСПИТ**  
**Графички дизајн, Веб дизајн и Примењена фотографија**  
**јуни 2010.**

1. Популарни назив за Рим је:

- а) „Град светлости“                      б) „Стари град“  
в) „Вечни град“                          г) „Град анђела“

2. Наука која проучава знакове и симболе је:

- а) семиотика                              б) хералдика                              в) вексикологија

3. Пренос поруке брзо и једноставно, представљајући срж компаније или услуге постиже се путем:

- а) логотипа                              б) пиктограма                              в) дијаграма

4. Сито штампа је техника:

- а) дубоке штампе                      б) равне штампе                      в) пропусне штампе

5. Избор и дизајн облика фонтова је назив науке:

\_\_\_\_\_

6. Заштитни знак најбоље је дефинисати у изради као документ облика:

- а) слике                              б) вектора                              в) текста

7. Сабирањем плаве и зелене светлости добија се:

- а) жута    б) цијан    в) магента                      г) браон

8. Брзо и приступачно повезивање публикације зове се:

- а) тврди повез    б) кламовање                      в) спирала

9. Колерик је:

- а) агресиван човек                      б) раздражљив човек  
в) депресиван човек                      г) дружељубив човек

10. Санс Сериф у типографији значи:

- а) са серифима                              б) без серифа  
в) само контурна линија која дефинише облик слова

11. Заокружи ликовне елементе који су емотивни принцип:

- а) боја                      б) линија                      в) облик                      г) текстура

12. Који је уметник осликао свод Сикстинске капеле?

- а) Рафаел                              б) Леонардо да Винчи  
в) Микеланђело                      г) Ботичели

13. Наведи три формата у којима се представљају дигиталне фотографије

\_\_\_\_\_

14. Валер је:

- а) контраст боја
- б) врста линије
- в) однос од црне до беле боје
- г) врста текстуре

15. Ако важи: „Сви елементи скупа  $A$  припадају скупу  $B$ , а неки елементи скупа  $A$  припадају скупу  $C$ “, шта је тачно?

- а) Сви елементи скупа  $B$  припадају скупу  $C$
- б) Сви елементи скупа  $A$  припадају скупу  $C$
- в) Неки елементи скупа  $C$  припадају скупу  $B$
- г) Сви елементи скупа  $C$  припадају скупу  $B$
- д) Ништа од наведеног

16. У дигиталним фотоапаратима слика се бележи на:

- а) филму
- б) слајд филму
- в) меморијску картицу
- г) интерни хард диск

17. Експозиција је:

- а) количина боја
- б) валерска скала
- в) време падања светлости на филм
- г) количина падања светлости на филм

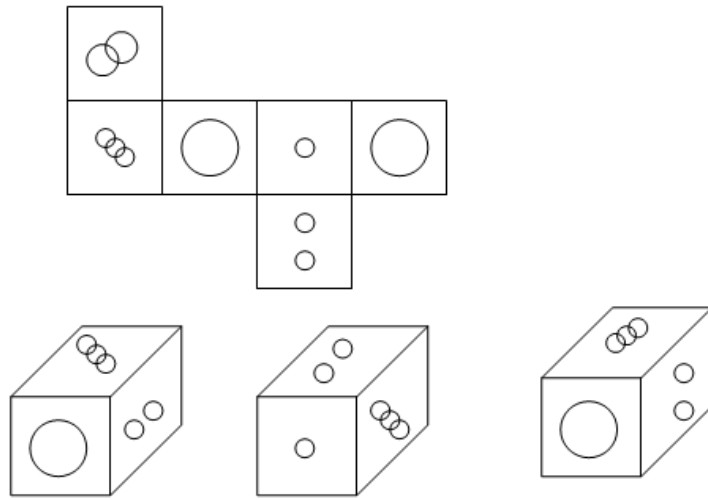
18. Који метал се најчешће користи за израду офсет плоча?

- а) гвожђе
- б) бакар
- в) алуминијум
- г) цинк

19. Интернет сервис  $WWW$  је настао у:

- а) Америци као део војног пројекта
- б) Швајцарској као део научног пројекта
- в) Великој Британији као део истраживачког пројекта

20. Које од наведених тела одговара датој мрежи?

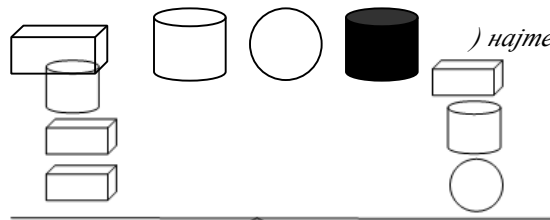


a)

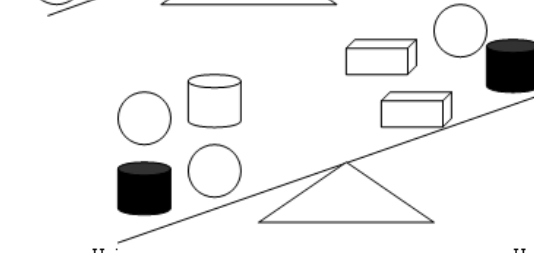
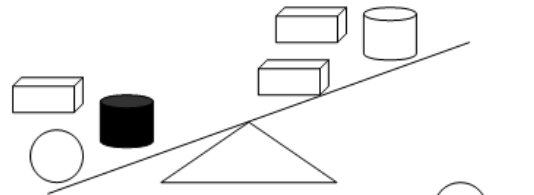
б)

в)

21. Који је од објеката (



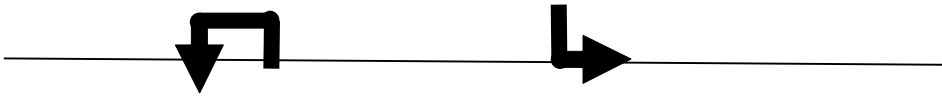

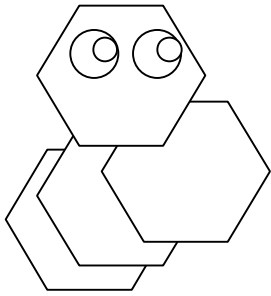
) најтежи, а који најлакши?




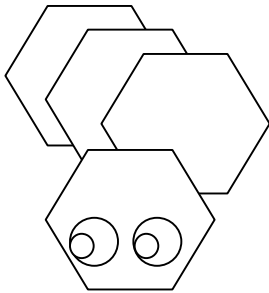
Најтежи

Најлакши


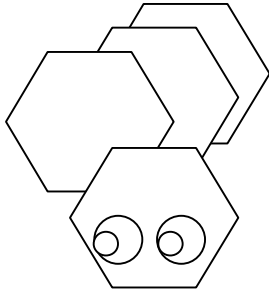
22. Ако ротирате сваку од ових слика у правцу стрелица на слици која од фигура испод линије ће се добити?




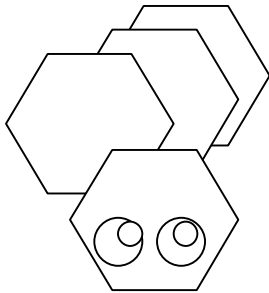
1



2



3



NACRTAJ SAVREMENI PICTOGRAM OVE ŽIVOTINJE  
ZA ZOO-VRT

